
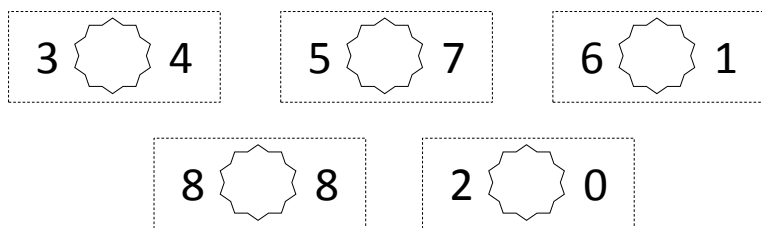


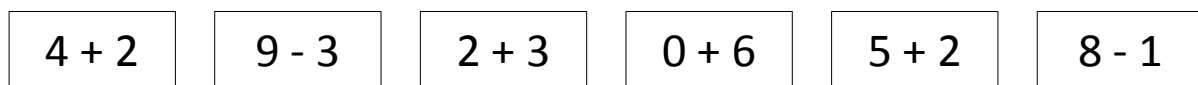
1. Раскрась снежинку с самым маленьким числом жёлтым цветом, а снежинку с самым большим числом – зелёным.



2. Выбери и обведи те записи, где мышка прогрызла знак $>$.



3. Найди и раскрась все карточки с ответом 6.



4. Помоги Деду Морозу определить, какие числа спрятаны за мешками с подарками. Вставь их в пустые окошки.

$$4 + \text{мешок} = 6$$

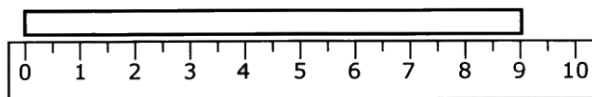
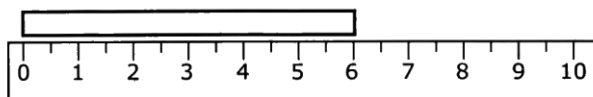
$$\text{мешок} + 5 = 5$$

$$\text{мешок} - 1 = 8$$

$$7 - \text{мешок} = 4$$



5. Раскрась полоску, длина которой 7 см.



6. Какие два числа продолжают числовой ряд? Раскрась нужную карточку.

2, 4, 6, ..., ...

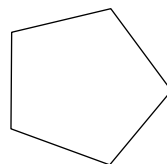
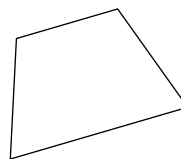
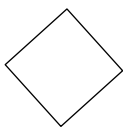
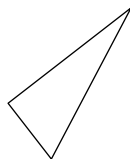
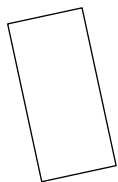
7, 9

8, 10

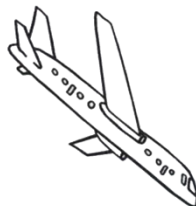
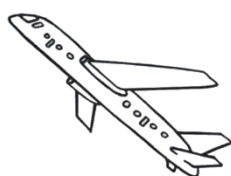
8, 9

7, 8

7. Раскрась все четырёхугольники.



8. Обведи самолёт, который летит направо.



9. Сколько шаров нужно ещё повесить на ёлку, чтобы их стало 8?

Раскрась карточку

с правильным ответом.

2

4



1

3

5



10. Продолжи записи. Соедини линией каждый рисунок со своей записью.




$3 + 2 =$

$5 - 1 =$

$2 + 1 =$

$4 - 1 =$

1. Раскрась снежинку с самым маленьким числом жёлтым цветом, а снежинку с самым большим числом – зелёным.



2. Выбери и обведи те записи, где мышка прогрызла знак $>$.

$$3 \text{ } \square \text{ } 0$$

$$9 \text{ } \square \text{ } 9$$

$$7 \text{ } \square \text{ } 6$$

$$5 \text{ } \square \text{ } 7$$

$$1 \text{ } \square \text{ } 4$$



3. Найди и раскрась все карточки с ответом 6.

$$6 + 0$$

$$9 - 2$$

$$3 + 3$$

$$5 + 2$$

$$8 - 2$$

$$10 - 3$$

4. Помоги Деду Морозу определить, какие числа спрятаны за мешками с подарками. Вставь их в пустые окошки.

$$5 + \text{мешок} = 7$$

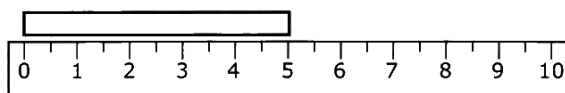
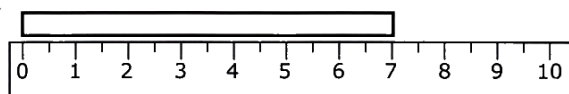
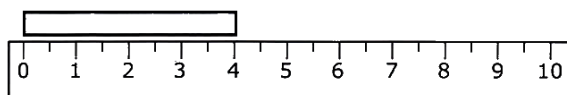
$$\text{мешок} + 8 = 8$$

$$\text{мешок} - 1 = 6$$

$$9 - \text{мешок} = 6$$



5. Раскрась полоску, длина которой 7 см.



6. Какие два числа продолжают числовой ряд? Раскрась нужную карточку.

1, 3, 5, ..., ...

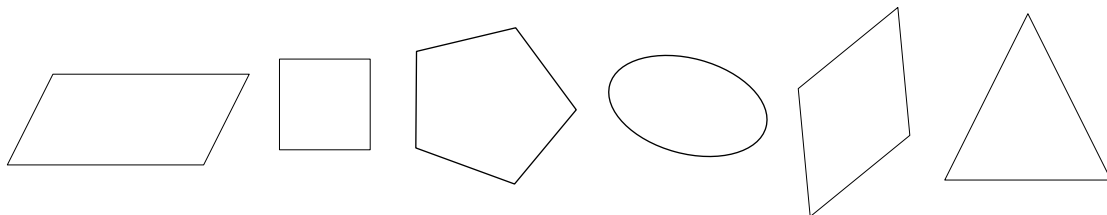
8, 10

6, 7

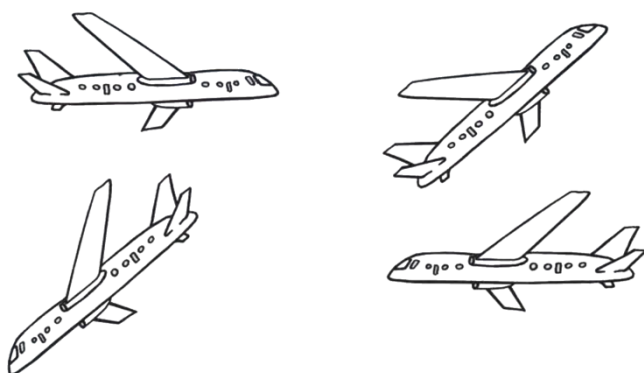
8, 9

7, 9

7. Раскрась все четырёхугольники.



8. Обведи самолёт, который летит направо.



9. Сколько шаров нужно ещё повесить на ёлку, чтобы их стало 8?

Раскрась карточку

с правильным ответом.

3

5



1

2

4



10. Продолжи записи. Соедини линией каждый рисунок со своей записью.



$3 + 2 =$

$4 - 1 =$

$3 - 1 =$

$4 + 1 =$

Источники информации:

Задания и сканы рисунков:

Канашевич, Т.Н. Математика: тестовые задания: 1 класс: пособие для учителей учреждений общ. сред. образования с рус. яз. обучения / Т.Н. Канашевич. – Минск: Аверсэв, 2013.

Крылова, О.Н. Математика: входные тесты: 1 класс / О.Н. Крылова. – М.: Издательство «Экзамен», 2012.

Рудницкая, В.Н. Математика: 1 класс: контрольные измерительные материалы / В.Н. Рудницкая. – М.: Издательство «Экзамен», 2014.

Рудницкая, В.Н. Тесты по математике: 1 класс: к учебнику М.И. Моро и др. «Математика. 1 класс. В 2 ч.» / В.Н. Рудницкая. – М.: Издательство «Экзамен», 2012.

Интернет-картинки:

<http://raskraski-dlya-malchikov.ru/wp-content/uploads/Raskraska-Myshka-34.jpg> мышка

<http://www.clipartbest.com/cliparts/4Tb/KG9/4TbKG96Ac.jpeg> снежинка

<http://markettrading1.com/wp-content/uploads/2017/09/awesome-coloring-pages-christmas-ornaments-images-printable-with-christmas-ornaments-color-pages.jpg> ёлочный шарик

https://arhivurokov.ru/kopilka/up/html/2017/05/25/k_592658be18a95/user_file_592658be8cceb_1_4.jpeg ёлочка

http://modernlib.ru/books/sokolova_elenagotovimsya_k_shkole_uchimsya_schitat/pic_42.jpg страусы и черепахи

http://www.userdocs.ru/pars_docs/refs/66/65403/65403_html_f60304.jpg мешок

<http://new-year.raskraski.link/uploads/0/5/9/Ded-moroz-s-meshkom-podarkov.jpg> Дед Мороз